






Benoem van de onderstaande bladschijven de bladranden. Vul de antwoorden in het schema op bladzijde 3 in.







Afbeelding	Bladrand
A	Vorm: .....
	Rand: .....
B	Vorm: .....
	Rand: .....
C	Vorm: .....
	Rand: .....
D	Vorm: .....
	Rand: .....
E	Vorm: .....
	Rand: .....
F	Vorm: .....
	Rand: .....
G	Vorm: .....
	Rand: .....
H	Vorm: .....
	Rand: .....
I	Vorm: .....
	Rand: .....
J	Vorm: .....
	Rand: .....
k	Vorm: .....
	Rand: .....
L	Vorm: .....
	Rand: .....